

**Matematyka**

**J.polski**

**26 kwietnia  
poniedziałek**

**Plastyka**

26 IV 2021 r.

Matematyka:)

# Dodawanie i odejmowanie pisemne.

**Praca w  
ćwiczeniach s.  
54 - 56**



1. Dzieci były na wycieczce w stacji meteorologicznej. Obserwowały przyrząd, za pomocą którego mierzono kierunek i siłę wiatru. Dowiedziały się, że przy delikatnym podmuchu wiatru wiatraczek obraca się 116 razy w ciągu minuty, a przy lekkim wietrze 234 razy. Oblicz, o ile więcej obrotów wykonuje wiatraczek przy lekkim wietrze niż przy delikatnym podmuchu.



$$\begin{array}{r}
 234 \\
 - 116 \\
 \hline
 118
 \end{array}$$

więcej.

Odp.: Wiatraczek wykonuje o 118 obrotów

**3.** Zaplanowano przebudowę drogi na odcinku 945 metrów. Część tej drogi będzie stanowił wiadukt o długości 218 m. Jaka długość ma pozostała część drogi? O ile metrów krótszy jest wiadukt od pozostałej części drogi?

$$\begin{array}{r}
 315 \\
 945 \\
 - 218 \\
 \hline
 727
 \end{array}
 \qquad
 \begin{array}{r}
 117 \\
 727 \\
 - 218 \\
 \hline
 509
 \end{array}$$

**4.** O ile większa jest liczba 763 od liczby 425?

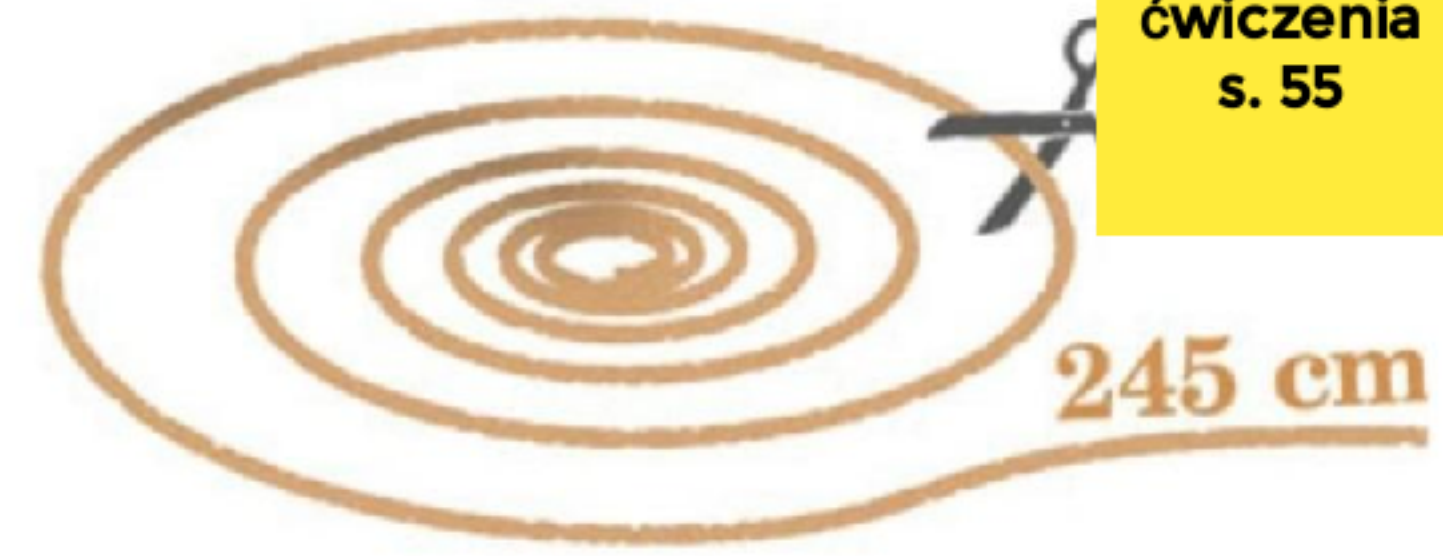
$$\begin{array}{r}
 338 \\
 763 \\
 - 425 \\
 \hline
 338
 \end{array}$$

1. Wzdłuż drogi niedaleko osiedla ustawione są ekrany akustyczne. Pierwszego dnia pracownicy drogowi ustawili 235 metrów tych ekranów. Drugiego dnia ustawili o 150 metrów mniej. Ile metrów ekranów ustawili drugiego dnia? Ile metrów ekranów ustawili razem?

$$\begin{array}{r} 1 \ 13 \\ 235 \\ - 150 \\ \hline \checkmark \ 85 \end{array} \quad \begin{array}{r} 1 \ 1 \\ 235 \\ + 85 \\ \hline 320 \end{array}$$

Razem ustawili 320 ekranów.

**3.** Kacper robił latawiec. Ze sznurka o długości 930 cm odciął kawałek o długości 245 cm. Ile sznurka zostało? Jaka jest różnica długości między otrzymanymi kawałkami sznurka?



Obliczenie:  $930 - 245 = 685$      $685 - 245 = 440$

Odp.: Różnica długości wynosi

$$\begin{array}{r} 8 \quad 12 \quad 10 \\ 930 \\ - 245 \\ \hline 685 \end{array}$$







$$\begin{array}{r} 685 \\ - 245 \\ \hline 440 \end{array}$$

si 440 cm.

**Praca  
samodzielna**

**zad. 2  
s. 54**

**zad. 2 i  
4 s. 55**





**p**

**r**

**z**

**e**

**r**

**w**

**a**

**10  
minut**



26 IV 2021 r.

j.  
polski

Majowe święta c.d. Utrwalamy wiadomości.

**Podręcznik s.  
20 - 21**



**Przeczytaj  
wiersz  
"Polska"**

Zapamiętaj




Napisz w zeszycie.

Nazwy państw i ich mieszkańców  
piszemy wielką literą, a przymiotniki  
utworzone od tych nazw - małą.

**Pisownia  
wielką i  
małą  
literą.**

ćw. 2 s. 21 p. - w zeszycie



**Praca  
samodzielna -  
ćw. 3 s. 21 p.**

**Test  
trzecioklasisty**

**Ćwiczmy!**

**Czytaj  
uważnie  
polecenia,  
nawet kilka  
razy!**



**Pamiętaj!!!**



**Sprawdź  
wszystkie  
odpowiedzi,  
zanim oddasz  
pracę!**

plas

tyka



[www.krokotak.com](http://www.krokotak.com)



EGG CARTON PORTRAITS



[www.krokotak.com](http://www.krokotak.com)




PORTRET





# EGG CARTON PORTRAITS



www.krokotak.com



# Przygotuj:

- kartonowy pojemnik po jajkach,
- czarny marker,
- farby, pastele lub kredki,
- papier kolorowy.




## Obejrzyj film instruktażowy.

<http://krokotak.com/2019/08/egg-carton-portraits/>

**Baw się dobrze!**



**LEKTURA**



**Czytaj  
"Karolcię"!**

**7 dni**





Do widzenia!  
Miłego dnia!

